

Nazwa kwalifikacji: (test zawiera pytania z kilku kwalifikacji)

Oznaczenie kwalifikacji: EKA.4 + EKA.5

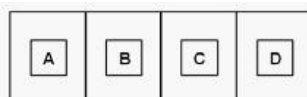
Wersja arkusza: FY21OKT1

Czas trwania egzaminu: **60 minut**

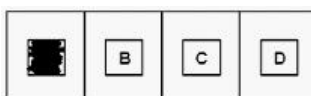
EGZAMIN POTWIERDZAJĄCY KWALIFIKACJE ZAWODOWE ETAP PISEMNY

Instrukcja dla zdającego:

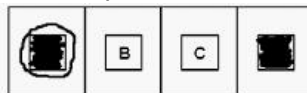
1. Sprawdź czy arkusz egzaminacyjny zawiera odpowiednią ilość stron. Ewentualny brak stron lub inne usterki zgłoś przewodniczącemu zespołu nadzorującego.
2. Do arkusza dołączona jest KARTA ODPOWIEDZI, na której:
 - wpisz symbol cyfrowy zawodu,
 - zamaluj kratkę z oznaczeniem wersji arkusza,
 - wpisz swój numer PESEL,
 - wpisz swoją datę urodzenia,
 - przyklej naklejkę ze swoim numerem PESEL w oznaczonym miejscu na karcie.
3. Arkusz egzaminacyjny zawiera test składający się z 40 zadań.
4. Za każde poprawnie rozwiązane zadanie możesz uzyskać 1 punkt.
5. Aby zdać część pisemną egzaminu musisz uzyskać co najmniej 50% punktów.
6. Czytaj uważnie wszystkie zadania.
7. Rozwiązania zaznaczaj na KARCIE ODPOWIEDZI długopisem lub piórem z czarnym tuszem/atramentem.
8. Do każdego zadania podane są cztery możliwe odpowiedzi: A, B, C, D. Odpowiada im następujący układ krerek na KARCIE ODPOWIEDZI:



9. Tylko jedna odpowiedź jest poprawna.
10. Wybierz właściwą odpowiedź i zamaluj kratkę z odpowiadającą jej literą - np. gdy wybrałeś odpowiedź "A":



11. Staraj się wyraźnie zaznaczać odpowiedzi. Jeżeli się pomylisz i błędnie zaznaczysz odpowiedź, otocz ją kółkiem i zaznacz odpowiedź, którą uważasz za poprawną, np.



12. Po rozwiązaniu testu sprawdź, czy zaznaczyłeś wszystkie odpowiedzi na KARCIE ODPOWIEDZI i wprowadziłeś wszystkie dane, o których mowa w punkcie 2 tej instrukcji.

Pamiętaj, że oddajesz przewodniczącemu zespołu nadzorującego tylko KARTĘ ODPOWIEDZI.

Powodzenia!

Zadanie 1.

Na podstawie danych zawartych w tabeli ustal podstawę naliczenia podatku dochodowego z tytułu umowy zlecenia zawartej z własnym pracownikiem.

Rachunek do umowy zlecenia (fragment)	
Wynagrodzenie brutto	2 000,00 zł
Składki na ubezpieczenia społeczne zleceniobiorcy	274,20 zł
Koszty uzyskania przychodu <small>www.EgzaminZawodowy.info</small>	345,16 zł

- A. 1 381,00 zł
- B. 1 726,00 zł
- C. 1 655,00 zł
- D. 2 000,00 zł

Zadanie 2.

Pierwszym etapem procesu planowania jest

- A. ustalenie celów.
- B. kontrola realizacji planu.
- C. analiza otoczenia konkurencyjnego.
- D. poszukiwanie alternatywnych rozwiązań.

Zadanie 3.

Świadectwo pracy powinno zawierać między innymi informację

- A. o sposobie rozwiązania umowy.
- B. o chorobie zawodowej pracownika.
- C. o karach porządkowych nałożonych na pracownika.
- D. o przynależności do związków zawodowych.

Zadanie 4.

Miesięczny plan zaopatrzenia materiałowego dla działu produkcji to plan

- A. strategiczny.
- B. operacyjny.
- C. zmianowy.
- D. taktyczny.

Zadanie 5.

W czwartym kwartale 2020 r. przedsiębiorstwo otrzymało dostawy materiałów w następujących odstępach czasowych: 14 dni, 16 dni, 14 dni, 18 dni, 15 dni, 13 dni. Oblicz średni cykl dostaw metodą średniej arytmetycznej w IV kwartale 2020 r.

- A. 6 dni.
- B. 30 dni.
- C. 8 dni.
- D. 15 dni.

Zadanie 6.

W celu ustalenia przeciętnej liczby dni potrzebnych przedsiębiorstwu na odnowienie zapasu materiałów w magazynie, należy obliczyć wskaźnik

- A. kompletności dostaw.

- B. rotacji zapasów w dniach.
- C. rotacji zapasów w razach.
- D. terminowości dostaw.

Zadanie 7.

Spółkę z ograniczoną odpowiedzialnością należy zarejestrować

- A. w Ministerstwie Przedsiębiorczości i Technologii.
- B. w Urzędzie Ochrony Konkurencji i Konsumentów.
- C. w Centralnej Ewidencji i Informacji o Działalności Gospodarczej.
- D. w Krajowym Rejestrze Sądowym.

Zadanie 8.

Podatnik może pomniejszyć wyliczoną kwotę ryczałtu od przychodów ewidencjonowanych o wartość

- A. opłaconej składki na ubezpieczenie zdrowotne właściciela (7,75% podstawy jej wymiaru).
- B. opłaconych składek na ubezpieczenia społeczne właściciela (29,19% podstawy ich wymiaru).
- C. wpłaty na indywidualne konto zabezpieczenia emerytalnego właściciela.
- D. darowizny przekazanej na cele kultu religijnego.

Zadanie 9.

Na podstawie danych z listy płac z 31.12.2020 r. oblicz kwotę należnej zaliczki na podatek dochodowy.

Lista płac za grudzień 2020 z dnia 31.12.2020 r.

Lp.	NALICZENIA			PODATEK	ZUS PŁATNIK	NETTO
	Podstawa Akord	Wynagr. urlopowe (Pozostale)	Brutto male			
	Prowizja	Brutto duże		Koszty Dochód do opodat.	Ubezp. emerytalne	Ubezp. zdrowotne (Pozostale)
	Premie	Ubezp. emerytalne		Podatek	Ubezp. wypadkowe	Do wypłaty
	Dod. za godz. nadliczb.	Ubezp. rentowe		Ulga	FP i FS	
	Dod. za godz. nocne	Ubezp. chorobowe		Ubezp. zdrowotne	FGŚP	
	Wynagr. chorobowe			Zaliczka	FEP	
				Netto		
1.	Nowak Edward					
	3 000,00	0,00	3 106,44	250,00	351,36	38,83
	0,00	0,00		2 856,00	234,00	0,00
	0,00	3 600,00		485,52	60,12	2 625,86
	600,00	351,36		43,76	88,20	
	0,00	54,00		240,75	3,60	
	0,00	88,20		0,00	
	0,00			2 664,69		

www.EgzaminZawodowy.info

- A. 162,00 zł
- B. 201,00 zł
- C. 403,00 zł
- D. 442,00 zł

Zadanie 10.

Na wynagrodzenie brutto pracownika składa się

- płaca zasadnicza 3 500,00 zł,
- dodatek funkcyjny 400,00 zł,
- premia motywacyjna 700,00 zł.

O ile zwiększy się wynagrodzenie brutto pracownika, jeżeli płaca zasadnicza wzrośnie o 10%?

- A. 350,00 zł

- B. 420,00 zł
- C. 110,00 zł
- D. 390,00 zł

Zadanie 11.

Na podstawie dowodu Rw nr 1/12/2020 ustal łączną wartość rozchodu materiałów z magazynu.

Przedsiębiorstwo Produkcyjne ADMAR sp. z o.o. ul. Fabryczna 5, 87-100 Toruń NIP 5366128295		Konto kosztów	Konto wydz.	Nr zlecenia	Rw Rozchód wewnętrzny	Nr bieżący Rw	Egz.	
		Skąd		Dokąd		1/12/2020	1	
		Magazyn	Produkcja			Nr magazynowy Rw	Data	
						1/12/2020	08.12.2020 r.	
Nr indeksu materiałowego	Nazwa materiału	Ilość			Cena jednostkowa (w zł)	Wartość (w zł)	Konto syntet.	Zapas ilość
		Żądana	J.m.	Wydana				
012	Wkręt do drewna twardego 3,5x40 mm (500 szt.)	50	opak.	48	20,00		
013	Wkręt do drewna 6,0x90 mm (100 szt.)	20	opak.	18	15,00		
RAZEM							
Wystawił	Zatwierdził	Wydał	Data	Pobrał	Ewidencja ilościowo-wartościowa			
<i>Piotr Kotan</i>	<i>Artur Machaj</i>	<i>Piotr Kotan</i>	08.12.2020 r.	<i>Bohdan Raj</i>				

- A. 1 260,00 zł
- B. 1 270,00 zł
- C. 1 230,00 zł
- D. 1 300,00 zł

Zadanie 12.

Do produkcji 1 litra dżemu truskawkowego zużywa się, zgodnie z normą, 0,8 kg truskawek i 0,4 kg cukru. Ile kilogramów truskawek i cukru potrzeba do wyprodukowania 600 litrów dżemu truskawkowego?

- A. 720 kg truskawek i 720 kg cukru.
- B. 480 kg truskawek i 120 kg cukru.
- C. 750 kg truskawek i 1 500 kg cukru.
- D. 480 kg truskawek i 240 kg cukru.

Zadanie 13.

Zadaniem banku komercyjnego jest między innymi

- A. prowadzenie gospodarki rezerwami dewizowymi.
- B. regulowanie podaży pieniądza w obiegu.
- C. świadczenie usług finansowych dla podmiotów gospodarczych.
- D. prowadzenie rachunków bankowych rządu i centralnych instytucji państwowych.

Zadanie 14.

Hurtownia zakupiła towar po cenie netto 30,00 zł/szt. Oblicz wartość brutto za sprzedane 100 sztuk towarów, jeżeli marża hurtowa wynosi 40% ceny zakupu netto, a stawka podatku VAT 23%.

- A. 4 200,00 zł
- B. 5 000,00 zł
- C. 6 150,00 zł
- D. 5 166,00 zł

Zadanie 15.

Zapasy odpowiadający bieżącym potrzebom w przedsiębiorstwie, utrzymywane w celu zaspokojenia zaplanowanego zużycia przy znanym czasie dostaw, to zapasy

- A. rezerwowo.
- B. nadmierny.
- C. sezonowy.
- D. produkcyjny.

Zadanie 16.

Na podstawie zamieszczonego fragmentu listy płac nr 1/12/2020 ustal podstawę wymiaru składek na ubezpieczenia społeczne.

Lista płac nr 1/12/2020 (fragment)

Składniki wynagrodzenia		Wynagrodzenie za czas niezdolności do pracy		Ogółem przychód
Płaca zasadnicza	Premia	Wyplacane ze środków zakładu pracy	Wyplacane ze środków ZUS	
3 600,00 zł	400,00 zł	500,00 zł	0,00 zł	4 500,00 zł

www.EgzaminZawodowy.info

- A. 3 600,00 zł
- B. 4 500,00 zł
- C. 4 000,00 zł
- D. 5 000,00 zł

Zadanie 17.

Którego elementu brakuje w umowie o pracę, aby spełniała wymogi formalne określone w Kodeksie pracy?

Przedsiębiorstwo Handlowe AROMAT S.A. ul. Bór 5, 42-700 Częstochowa Regon: 037538883 NIP: 5278633332	Częstochowa, dnia 02.12.2020 r.
UMOWA O PRACĘ numer UP/2020/5	
zawarta w dniu 02.12.2020 r. pomiędzy Przedsiębiorstwem Handlowym AROMAT S.A., reprezentowanym przez Prezesa Beatę Jabłońską z siedzibą: Częstochowa, ul. Bór 5, a Panem Adamem Kajem, zamieszkałym: Częstochowa, ul. Wałowa 5 na czas nieokreślony od 03.12.2020 r.	
1. Strony ustalają następujące warunki zatrudnienia: 1) stanowisko: magazynier, 2) miejsce wykonywania pracy: Częstochowa, ul. Bór 5, 3) składniki wynagrodzenia: podstawa miesięczna 4 000,00 zł 2. Dzień rozpoczęcia pracy: 03.12.2020 r.	
<i>02.12.2020 r. Adam Kaj</i> (data i podpis pracownika)	<i>Beata Jabłońska</i> (podpis pracodawcy)

www.EgzaminZawodowy.info

- A. Harmonogramu czasu pracy.
- B. Wymiaru urlopu wypoczynkowego.
- C. Wymiaru czasu pracy.
- D. Okresu wypowiedzenia umowy.

Zadanie 18.

Przedsiębiorca, który prowadzi działalność handlową w zakresie sprzedaży owoców i warzyw, opłaca podatek dochodowy w formie ryczałtu od przychodów ewidencjonowanych. W styczniu

Generator losowych testów zawodowych on-linewww.testy.egzaminzawodowy.info

wersja: FY21OKT1

z tytułu prowadzonej działalności jego przychody po odliczeniach wyniosły 50 000,00 zł. Oblicz kwotę ryczałtu od przychodów ewidencjonowanych.

Stawka ryczałtu	Przychody ewidencjonowane
20%	osiągane w zakresie wolnych zawodów
17%	ze świadczenia usług, m.in.: reprodukcji komputerowych nośników informacji; związanych z zakwaterowaniem; pośrednictwa w sprzedaży hurtowej pojazdów samochodowych, części i akcesoriów do pojazdów samochodowych
10%	z odpłatnego zbycia praw majątkowych lub nieruchomości (...)
8,5%	z działalności usługowej, w tym: z działalności gastronomicznej w zakresie sprzedaży napojów o zawartości alkoholu powyżej 1,5%; z działalności polegającej na wytwarzaniu przedmiotów (wytrobów) z materiału powierzonoego przez zamawiającego; ze świadczenia usług wychowania przedszkolnego
5,5%	z działalności wytwórczej, robót budowlanych lub w zakresie przewozów ładunków taborem samochodowym o ładowności powyżej 2 ton
3%	z działalności gastronomicznej, z wyjątkiem przychodów ze sprzedaży napojów o zawartości alkoholu powyżej 1,5%; ze świadczenia usług związanych z produkcją zwierzęcą; z działalności usługowej w zakresie handlu; z działalności rybaków morskich i zalewowych w zakresie sprzedaży ryb i innych surowców pochodzących z własnych połowów, z wyjątkiem sprzedaży konserw oraz prezerw z ryb i innych surowców z połowów
2%	ze sprzedaży przetworzonych w sposób inny niż przemysłowy produktów roślinnych i zwierzęcych

www.EgzaminZawodowy.info

- A. 2 750,00 zł
- B. 4 250,00 zł
- C. 8 500,00 zł
- D. 1 500,00 zł

Zadanie 19.

Maria Nowak nie ma ustalonego prawa do emerytury ani renty, a z tytułu zawartej umowy zlecenia podlega obowiązkowo wyłącznie ubezpieczeniu zdrowotnemu. Wskaż kod tytułu ubezpieczenia, który przedsiębiorca wpisze na formularzu zgłoszeniowym do ZUS, wiedząc, że Maria Nowak przedłożyła mu orzeczenie o lekkim stopniu niepełnosprawności.

Kody ubezpieczeniowe	Podmiot podstawowy wraz z rozszerzeniem
01 10	pracownik podlegający ubezpieczeniom społecznym i ubezpieczeniu zdrowotnemu
01 11	pracownik podlegający ubezpieczeniom społecznym i z mocy przepisów szczególnych niepodlegający ubezpieczeniu zdrowotnemu
04 11	osoba wykonująca umowę agencyjną, umowę zlecenia lub umowę o świadczenie usług
05 11	osoba współpracująca z osobą prowadzącą pozarolniczą działalność (...)

Kody ubezpieczeniowe	Ustalone bądź nieustalone prawo do emerytury lub renty
0	osoba, która nie ma ustalonego prawa do emerytury lub renty
1	osoba, która ma ustalone prawo do emerytury
2	osoba, która ma ustalone prawo do renty

Kody ubezpieczeniowe	Stopień niepełnosprawności
0	osoba nieposiadająca orzeczenia o niepełnosprawności lub osoba, która posiada orzeczenie i nie przedłożyła go płatnikowi składek
1	osoba, która przedłożyła płatnikowi składek orzeczenie o lekkim stopniu niepełnosprawności
2	osoba, która przedłożyła płatnikowi składek orzeczenie o umiarkowanym stopniu niepełnosprawności
3	osoba, która przedłożyła płatnikowi składek orzeczenie o znacznym stopniu niepełnosprawności

www.EgzaminZawodowy.info

- A. 04 11 0 1
- B. 01 11 0 1
- C. 05 11 1 0

D. 01 10 1 0

Zadanie 20.

Pracownik, który jest absolwentem studiów licencjackich i przepracował 3 lata na podstawie umowy o pracę, zgodnie z Kodeksem pracy, ma prawo do urlopu wypoczynkowego w wymiarze rocznym

Wyciąg z Kodeksu pracy

(...)
Art. 155. § 1. Do okresu pracy, od którego zależy wymiar urlopu, wlicza się z tytułu ukończenia:
1) zasadniczej lub innej równorzędnej szkoły zawodowej - przewidziany programem nauczania czas trwania nauki, nie więcej jednak niż 3 lata,
2) średniej szkoły zawodowej - przewidziany programem nauczania czas trwania nauki, nie więcej jednak niż 5 lat,
3) średniej szkoły zawodowej dla absolwentów zasadniczych (równorzędnych) szkół zawodowych - 5 lat,
4) średniej szkoły ogólnokształcącej - 4 lata,
5) szkoły policealnej - 6 lat,
6) szkoły wyższej - 8 lat.
Okresy nauki, o których mowa w pkt 1 - 6, nie podlegają sumowaniu.
(...)

www.EgzaminZawodowy.info

- A. 18 dni.
- B. 20 dni.
- C. 26 dni.
- D. 28 dni.

Zadanie 21.

Na podstawie danych zamieszczonych w tabeli wskaż przedsiębiorstwo o najwyższym udziale majątku trwałego w aktywach ogółem.

	ABIS	TOPSEL	PATENT	ALLDOM
Aktywa trwałe	3 000,00 zł	4 000,00 zł	6 000,00 zł	5 000,00 zł
Aktywa obrotowe	7 000,00 zł	6 000,00 zł	4 000,00 zł	5 000,00 zł

www.EgzaminZawodowy.info

- A. PATENT
- B. TOPSEL
- C. ABIS
- D. ALLDOM

Zadanie 22.

Pracownik jest zatrudniony na podstawie umowy o pracę z wynagrodzeniem brutto 4 500,00 zł. Stawka na ubezpieczenie wypadkowe wynosi 1,67%. Wskaż, który fragment ZUS RCA Imiennego raportu miesięcznego o należnych składkach i wypłaconych świadczeniach został poprawnie wypełniony przez płatnika składek.

A.

01. Kod tytułu ubezpieczenia		02. Informacja o przekroczeniu rocznej podstawy wymiaru składek na ubezpieczenia emerytalne i rentowe		03. Wymiar czasu pracy	
0 1 1 0 0 0				1 / 1	
UBEZPIECZENIE	EMERYTALNE	RENTOWE	CHOROBY	WYPADKOWE	
PODSTAWA WYMIARU SKŁADKI	04. 4 5 0 0,0 0	05. 4 5 0 0,0 0	06. 4 5 0 0,0 0		
SKŁADKA FINANSOWANA PRZEZ:					
ubezpieczonego	07. 4 3 9,2 0	08. 6 7,5 0	09. 1 1 0,2 5	10. 0 0 0	
płatnika	11. 4 3 9,2 0	12. 2 9 2,5 0	13. 0 0 0	14. 7 5,1 5	

B.

01. Kod tytułu ubezpieczenia		02. Informacja o przekroczeniu rocznej podstawy wymiaru składek na ubezpieczenia emerytalne i rentowe		03. Wymiar czasu pracy	
0 1 1 0 0 0				1 / 1	
UBEZPIECZENIE	EMERYTALNE	RENTOWE	CHOROBY	WYPADKOWE	
PODSTAWA WYMIARU SKŁADKI	04. 4 5 0 0,0 0	05. 4 5 0 0,0 0	06. 4 5 0 0,0 0		
SKŁADKA FINANSOWANA PRZEZ:					
ubezpieczonego	07. 4 3 9,2 0	08. 6 7,5 0	09. 0 0 0	10. 7 5,1 5	
płatnika	11. 4 3 9,2 0	12. 2 9 2,5 0	13. 1 1 0,2 5	14. 7 5,1 5	

C.

01. Kod tytułu ubezpieczenia		02. Informacja o przekroczeniu rocznej podstawy wymiaru składek na ubezpieczenia emerytalne i rentowe		03. Wymiar czasu pracy	
0 1 1 0 0 0				1 / 1	
UBEZPIECZENIE	EMERYTALNE	RENTOWE	CHOROBY	WYPADKOWE	
PODSTAWA WYMIARU SKŁADKI	04. 4 5 0 0,0 0	05. 4 5 0 0,0 0	06. 4 5 0 0,0 0		
SKŁADKA FINANSOWANA PRZEZ:					
ubezpieczonego	07. 4 3 9,2 0	08. 6 7,5 0	09. 0 0 0	10. 0 0 0	
płatnika	11. 0 0 0	12. 2 9 2,5 0	13. 1 1 0,2 5	14. 7 5,1 5	

D.

01. Kod tytułu ubezpieczenia		02. Informacja o przekroczeniu rocznej podstawy wymiaru składek na ubezpieczenia emerytalne i rentowe		03. Wymiar czasu pracy	
0 1 1 0 0 0				1 / 1	
UBEZPIECZENIE	EMERYTALNE	RENTOWE	CHOROBY	WYPADKOWE	
PODSTAWA WYMIARU SKŁADKI	04. 4 5 0 0,0 0	05. 4 5 0 0,0 0	06. 4 5 0 0,0 0		
SKŁADKA FINANSOWANA PRZEZ:					
ubezpieczonego	07. 4 3 9,2 0	08. 2 9 2,5 0	09. 0 0 0	10. 0 0 0	
płatnika	11. 0 0 0	12. 2 9 2,5 0	13. 1 1 0,2 5	14. 7 5,1 5	

www.EgzaminZawodowy.info

- A. B.
- B. D.
- C. A.
- D. C.

Zadanie 23.

Z wynagrodzenia za pracę pracodawca może bez zgody pracownika potrącić

- A. wkład pieniężny z tytułu przynależności do pracowniczej kasy zapomogowo-pożyczkowej.
- B. składkę na dobrowolne ubezpieczenie na życie z tytułu zawartej przez pracownika polisy.
- C. składkę na związek zawodowy, do którego przynależność pracownika nie jest obowiązkowa.
- D. świadczenie alimentacyjne egzekwowane od pracownika na mocy tytułów wykonawczych.

Zadanie 24.

Na podstawie danych zamieszczonych w tabeli ustal, w którym regionie przedsiębiorstwo DAMA osiągnęło najwyższą wartość sprzedaży w stosunku do planowanej wartości sprzedaży.

Przedsiębiorstwo DAMA		
Region	Planowana wartość sprzedaży w zł	Zrealizowana wartość sprzedaży w zł
Region I	3 000,00	3 000,00
Region II	2 400,00	3 000,00
Region III	7 000,00	7 100,00
Region IV	9 200,00	9 000,00

- A. W regionie I.
- B. W regionie III.
- C. W regionie IV.
- D. W regionie II.

Zadanie 25.

Pracownik, który jest wynagradzany w systemie akordu progresywnego, przepracował w miesiącu godziny zgodnie z obowiązującym go wymiarem czasu pracy i wykonał 3 800 sztuk wyrobów spełniających normę jakościową. Na podstawie danych zamieszczonych w tabeli oblicz miesięczne wynagrodzenie brutto pracownika.

Stawka akordowa za wykonanie do 3 000 sztuk wyrobów	0,65 zł/szt.
Stawka akordowa za wykonanie powyżej 3 000 sztuk wyrobów	0,85 zł/szt.

www.EgzaminZawodowy.info

- A. 2 850,00 zł
- B. 3 230,00 zł
- C. 2 470,00 zł
- D. 2 630,00 zł

Zadanie 26.

Wyrejestrowania zleceniobiorcy z ubezpieczenia zdrowotnego należy dokonać na formularzu

- A. ZUS ZUA
- B. ZUS ZWUA
- C. ZUS ZZA
- D. ZUS ZIUA

Zadanie 27.

Wskaźnik efektywności wynagrodzeń wynosi 6, co oznacza, że

01. Kod tytułu ubezpieczenia: 0 1 1 0 0 0

02. Informacja o przekroczeniu rocznej podstawy wymiaru składek na ubezpieczenia emerytalne i rentowe:

03. Wymiar czasu pracy: 1 / 1

UBEZPIECZENIE	EMERYTALNE	RENTOWE	CHOROBOWE	WYPADKOWE
04. PODSTAWA WYMIARU SKŁADKI	4 5 0 0 0 0	05. 4 5 0 0 0 0	06. 4 5 0 0 0 0	
07. SKŁADKA FINANSOWANA PRZEZ: ubezpieczonego	4 3 9 2 0	08. 6 7 5 0	09. 1 1 0 2 5	10. 0 0 0
11. płatnika	4 3 9 2 0	12. 2 9 2 5 0	13. 0 0 0	14. 7 5 1 5

A.

01. Kod tytułu ubezpieczenia: 0 1 1 0 0 0

02. Informacja o przekroczeniu rocznej podstawy wymiaru składek na ubezpieczenia emerytalne i rentowe:

03. Wymiar czasu pracy: 1 / 1

UBEZPIECZENIE	EMERYTALNE	RENTOWE	CHOROBOWE	WYPADKOWE
04. PODSTAWA WYMIARU SKŁADKI	4 5 0 0 0 0	05. 4 5 0 0 0 0	06. 4 5 0 0 0 0	
07. SKŁADKA FINANSOWANA PRZEZ: ubezpieczonego	4 3 9 2 0	08. 6 7 5 0	09. 0 0 0	10. 7 5 1 5
11. płatnika	4 3 9 2 0	12. 2 9 2 5 0	13. 1 1 0 2 5	14. 7 5 1 5

B.

01. Kod tytułu ubezpieczenia: 0 1 1 0 0 0

02. Informacja o przekroczeniu rocznej podstawy wymiaru składek na ubezpieczenia emerytalne i rentowe:

03. Wymiar czasu pracy: 1 / 1

UBEZPIECZENIE	EMERYTALNE	RENTOWE	CHOROBOWE	WYPADKOWE
04. PODSTAWA WYMIARU SKŁADKI	4 5 0 0 0 0	05. 4 5 0 0 0 0	06. 4 5 0 0 0 0	
07. SKŁADKA FINANSOWANA PRZEZ: ubezpieczonego	4 3 9 2 0	08. 6 7 5 0	09. 0 0 0	10. 0 0 0
11. płatnika	0 0 0	12. 2 9 2 5 0	13. 1 1 0 2 5	14. 7 5 1 5

C.

01. Kod tytułu ubezpieczenia: 0 1 1 0 0 0

02. Informacja o przekroczeniu rocznej podstawy wymiaru składek na ubezpieczenia emerytalne i rentowe:

03. Wymiar czasu pracy: 1 / 1

UBEZPIECZENIE	EMERYTALNE	RENTOWE	CHOROBOWE	WYPADKOWE
04. PODSTAWA WYMIARU SKŁADKI	4 5 0 0 0 0	05. 4 5 0 0 0 0	06. 4 5 0 0 0 0	
07. SKŁADKA FINANSOWANA PRZEZ: ubezpieczonego	4 3 9 2 0	08. 6 7 5 0	09. 0 0 0	10. 0 0 0
11. płatnika	0 0 0	12. 2 9 2 5 0	13. 1 1 0 2 5	14. 7 5 1 5

D.

www.EgzaminZawodowy.info

- A. przychody ze sprzedaży usług stanowią 0,6% wynagrodzeń.
 B. każda złotówka wydana na wynagrodzenia wygenerowała 6,00 zł przychodów ze sprzedaży usług.
 C. wynagrodzenia stanowią 6% przychodów ze sprzedaży usług.
 D. każda złotówka przychodów ze sprzedaży usług wymagała nakładu 6,00 zł na wynagrodzenia.

Zadanie 28.

Przedsiębiorca, który rozlicza się z podatku dochodowego w formie karty podatkowej, ma obowiązek złożyć w urzędzie skarbowym PIT-16A Deklarację o wysokości składki na ubezpieczenie zdrowotne, zapłaconej i odliczonej od karty podatkowej w poszczególnych miesiącach roku podatkowego najpóźniej do

- A. 31 marca roku następującego po roku podatkowym.
 B. końca lutego roku następującego po roku podatkowym.
 C. 31 stycznia roku następującego po roku podatkowym.
 D. końca kwietnia roku następującego po roku podatkowym.

Zadanie 29.

Przedsiębiorca z tytułu prowadzonej działalności gospodarczej podlega obowiązkowo tylko ubezpieczeniu zdrowotnemu. Który formularz ZUS powinien wypełnić, aby zgłosić siebie do tego ubezpieczenia?

- A. ZUS ZAA
- B. ZUS ZZA
- C. ZUS ZFA
- D. ZUS ZUA

Zadanie 30.

Pismo, które wierzyciel kieruje do dłużnika w celu przypomnienia o nieuregulowanej należności w ustalonym terminie to

- A. nota odsetkowa.
- B. prośba o przedłużenie terminu płatności.
- C. wezwanie do zapłaty.
- D. oświadczenie dłużnika o poddaniu się egzekucji.

Zadanie 31.

Mikrootoczenie przedsiębiorstwa to otoczenie

- A. demograficzne.
- B. socjokulturowe.
- C. polityczno-prawne.
- D. konkurencyjne.

Zadanie 32.

Jeśli na poszczególnych szczeblach kanału dystrybucji określonego towaru występuje niewielka liczba podmiotów odpowiedzialnych za jego dystrybucję, to jest to kanał

- A. krótki.
- B. wąski.
- C. szeroki.
- D. bezpośredni.

Zadanie 33.

Farba używana do barwienia tkanin w przedsiębiorstwie produkującym kolorowe tkaniny jest zaliczana do

- A. towarów.
- B. półproduktów.
- C. materiałów.
- D. wyrobów gotowych.

Zadanie 34.

Cena brutto za usługę wynosi 2 160,00 zł. Jaka będzie kwota podatku VAT, jeżeli usługa jest opodatkowana stawką VAT 8%?

- A. 172,80 zł
- B. 1 987,20 zł
- C. 2 000,00 zł
- D. 160,00 zł

Zadanie 35.

Pracownikowi przysługuje wynagrodzenie zasadnicze w kwocie 3 500,00 zł brutto oraz prowizja w wysokości 3% od wartości sprzedaży zawartych umów. W bieżącym miesiącu pracownik podpisał 6 umów na łączną kwotę 6 000,00 zł. Jego wynagrodzenie brutto za bieżący miesiąc wyniesie

- A. 5 300,00 zł
- B. 3 500,00 zł
- C. 3 680,00 zł
- D. 3 518,00 zł

Zadanie 36.

Która strategia cenowa została opisana we fragmencie zamieszczonym w ramce?

Strategia polega na ustalaniu relatywnie niskiej ceny początkowej dla nowego produktu przeznaczonego dla dużego, masowego rynku o wysokiej wrażliwości cenowej popytu. Stosowana jest w celu zdobycia dużego udziału w rynku, kosztem rezygnacji z większych zysków w krótkim czasie.

www.EgzaminZawodowy.info

- A. Strategia zbierania śmietanki.
- B. Strategia penetracji.
- C. Strategia cen neutralnych.
- D. Strategia cen prestiżowych.

Zadanie 37.

Przedsiębiorstwo planuje wyprodukować w miesiącu 2 000 sztuk wyrobów gotowych. Norma techniczna zużycia materiału na 1 sztukę wyrobu gotowego wynosi 0,7 kg. Zapas początkowy materiału wynosi 300 kg, a planowany zapas końcowy 250 kg. Ile kilogramów materiału należy zakupić, aby zrealizować miesięczny plan produkcji?

- A. 850 kg
- B. 1 350 kg
- C. 1 450 kg
- D. 1 950 kg

Zadanie 38.

Zgodnie z Kodeksem pracy tygodniowy czas pracy łącznie z godzinami nadliczbowymi nie może przekraczać, w przyjętym okresie rozliczeniowym, przeciętnie

- A. 150 godzin.
- B. 48 godzin.
- C. 40 godzin.
- D. 8 godzin.

Zadanie 39.

Które postępowanie przedsiębiorcy należy uznać za etyczne?

- A. Celowe hamowanie rozwoju przedsiębiorstwa.
- B. Nietrzymanie zobowiązań.
- C. Informowanie inwestorów o problemach przedsiębiorstwa.
- D. Ukrywanie realnych dochodów.

Zadanie 40.

Wspólnicy nie ponoszą odpowiedzialności za zobowiązania spółki powstałe w związku z wykonywaniem wolnego zawodu przez pozostałych wspólników w spółce

- A. cywilnej.
- B. jawnej.
- C. partnerskiej.
- D. komandytowej.

KARTA ODPOWIEDZI

PESEL

--	--	--	--	--	--	--	--	--	--

Nr zad.	Odpowiedzi			
1	A	B	C	D
2	A	B	C	D
3	A	B	C	D
4	A	B	C	D
5	A	B	C	D
6	A	B	C	D
7	A	B	C	D
8	A	B	C	D
9	A	B	C	D
10	A	B	C	D
11	A	B	C	D
12	A	B	C	D
13	A	B	C	D
14	A	B	C	D
15	A	B	C	D
16	A	B	C	D
17	A	B	C	D
18	A	B	C	D
19	A	B	C	D
20	A	B	C	D
21	A	B	C	D
22	A	B	C	D
23	A	B	C	D
24	A	B	C	D
25	A	B	C	D

Nr zad.	Odpowiedzi			
26	A	B	C	D
27	A	B	C	D
28	A	B	C	D
29	A	B	C	D
30	A	B	C	D
31	A	B	C	D
32	A	B	C	D
33	A	B	C	D
34	A	B	C	D
35	A	B	C	D
36	A	B	C	D
37	A	B	C	D
38	A	B	C	D
39	A	B	C	D
40	A	B	C	D
41	A	B	C	D
42	A	B	C	D
43	A	B	C	D
44	A	B	C	D
45	A	B	C	D
46	A	B	C	D
47	A	B	C	D
48	A	B	C	D
49	A	B	C	D
50	A	B	C	D

Miejsce na naklejkę
z nr PESEL

Data urodzenia zdającego

--	--	--	--	--	--	--	--

dzień miesiąc rok

Nr zad.	Odpowiedzi			
51	A	B	C	D
52	A	B	C	D
53	A	B	C	D
54	A	B	C	D
55	A	B	C	D
56	A	B	C	D
57	A	B	C	D
58	A	B	C	D
59	A	B	C	D
60	A	B	C	D
61	A	B	C	D
62	A	B	C	D
63	A	B	C	D
64	A	B	C	D
65	A	B	C	D
66	A	B	C	D
67	A	B	C	D
68	A	B	C	D
69	A	B	C	D
70	A	B	C	D